

Mo

erledigt
 kontrolliert

Brüche und Prozentschreibweise

A Schreibe als Bruch und kürze dann so weit wie möglich.

16 % 25 % 30 % 40 % 50 % 75 %

B Setze >, < oder = ein.

60 % $\frac{2}{5}$ 15 % $\frac{3}{20}$ 70 % $\frac{18}{25}$ 20 % $\frac{1}{4}$

Di

erledigt
 kontrolliert

Prozentrechnung

Gib die Anteile in Prozent an.

<p>A 60 Cent von 3 € sind <input type="text"/> %</p> <p>5 km von 10 km sind <input type="text"/> %</p> <p>200 g von 1 kg sind <input type="text"/> %</p>	<p>B 48 min von 2 h sind <input type="text"/> %</p> <p>160 € von 400 € sind <input type="text"/> %</p> <p>500 m² von 2000 m² sind <input type="text"/> %</p>
---	---

Mi

erledigt
 kontrolliert

Aus der Geometrie

Trage deine Antworten in die grauen Felder ein.

A Wie heißt ein Viereck, bei dem alle vier Winkel gleich groß sind?

B Wo liegt der Mittelpunkt des Umkreises?

C Wie groß ist die Winkelsumme im Fünfeck?

D Wie heißt ein Viereck, bei dem es genau vier Symmetrieachsen gibt?

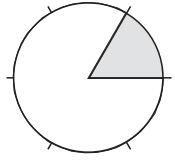
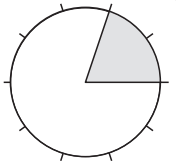
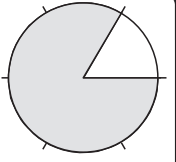
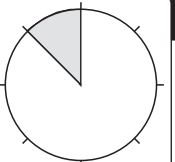
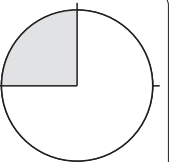
E Wie heißt ein Viereck, bei dem die Diagonalen Symmetrieachsen sind?

Do

erledigt
 kontrolliert

Kreisdiagramme

Wie viel Prozent des Kreises sind gekennzeichnet?

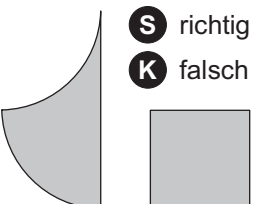

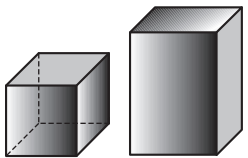

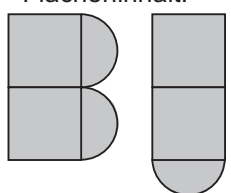
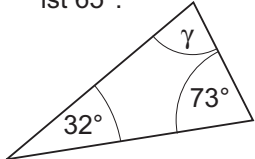
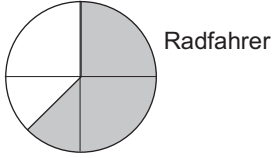
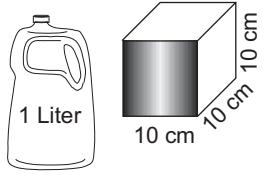
A  <input type="text"/>	B  <input type="text"/>	C  <input type="text"/>	D  <input type="text"/>	E  <input type="text"/>
---	---	---	---	---

Fr

erledigt
 kontrolliert

Richtig oder falsch?

Entscheide, ob die Aussagen richtig oder falsch sind. Die Kennbuchstaben der richtigen Antworten ergeben ein Wort.

<p>A Die Figuren haben den gleichen Flächeninhalt.</p>  <p>S richtig K falsch</p>	<p>B Die norwegische Flagge ist punktsymmetrisch.</p>  <p>O richtig E falsch</p>	<p>C Alle Würfel sind auch Quader.</p>  <p>E richtig S falsch</p>	<p>D Die Flagge von Japan ist punktsymmetrisch.</p>  <p>G richtig M falsch</p>
<p>E Die Figuren haben den gleichen Flächeninhalt.</p>  <p>E richtig U falsch</p>	<p>F Der Winkel γ ist 65°.</p>  <p>T richtig R falsch</p>	<p>G 37,5 % der Kinder kommen mit dem Rad zur Schule.</p>  <p>K richtig I falsch</p>	<p>H In beide Behälter passt ein Liter.</p>  <p>E richtig K falsch</p>

Lösungswort:

A	B	C	D	E	F	G	H
<input type="text"/>	<input type="text"/>	<input type="text"/>	<input type="text"/>	<input type="text"/>	<input type="text"/>	<input type="text"/>	<input type="text"/>